



Carolina Canro -Docente de apoyo pedagógico Secundaria J.T
Guía ajustada grado 7 opción A

Elaborada por: Carolina Canro- docente de apoyo pedagógico. Secundaria JT

Semana 6 del 8 al 12 de marzo de 2021

Nombre:

Metas de aprendizaje:

Al finalizar esta guía podrás:

- Fortalecer proceso lector, por medio de la identificación de los números y sus cantidades.

Actividades

1. Busca en la sopa de letras los siguientes números y escribe frente a cada palabra el número correspondiente, observa el ejemplo:

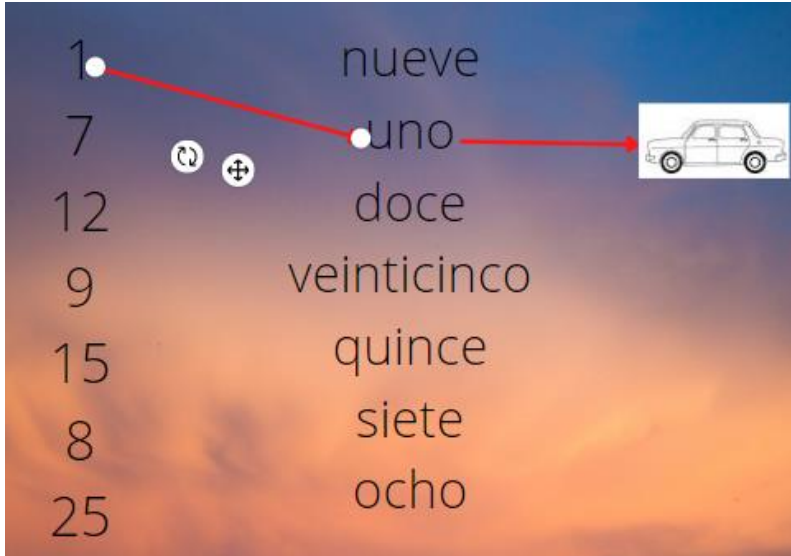
- Treinta y nueve: 39
- Doce:
- Setecientos sesenta:
- Mil quinientos ochenta:
- Doscientos noventa y un mil cuatrocientos ochenta:
- Cinco:

0	1	4	7	8	9
9	2	2	7	6	0
3	9	5	3	4	2
0	2	1	5	8	0
8	5	2	9	0	1
2	9	1	4	8	0

Carolina Canro -Docente de apoyo pedagógico Secundaria J.T
Guía ajustada grado 7 opción A

Elaborada por: Carolina Canro- docente de apoyo pedagógico. Secundaria JT

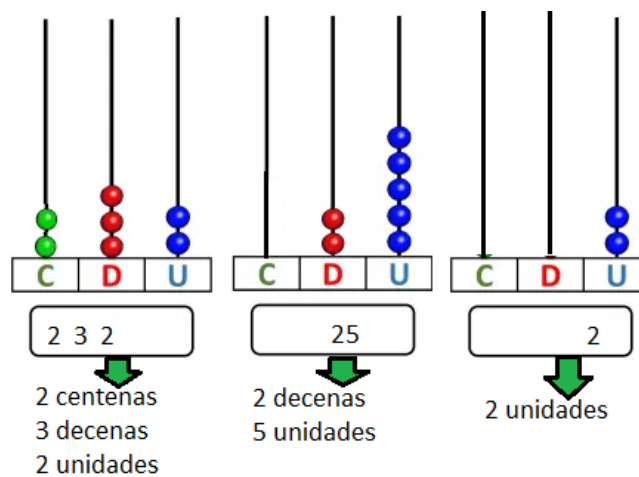
2. Relaciona cada número con la palabra y realiza el dibujo de la cantidad correspondiente, observa el ejemplo:



VALOR POSICIONAL DE UN NÚMERO

El **valor posicional** es el valor que toma un dígito de acuerdo con la posición que ocupa dentro del número (unidades, decenas, centenas...). Es por ello por lo que el cambio de posición de un dígito dentro de un número altera el valor total del mismo.

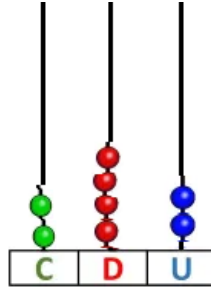
Ejemplo:



2. Ubica las siguientes cantidades en el ábaco, luego indica el valor posicional de cada una, observa el ejemplo:

Carolina Canro -Docente de apoyo pedagógico Secundaria J.T
Guía ajustada grado 7 opción A

Elaborada por: Carolina Canro- docente de apoyo pedagógico. Secundaria JT

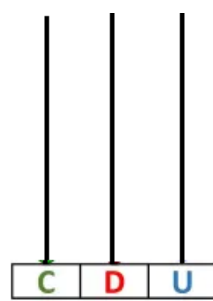
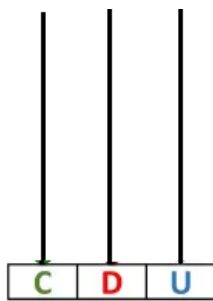
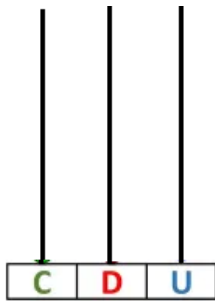


Centenas: **2**
 Decenas: **4**
 Unidades: **2**

134

568

36



3

10

567

